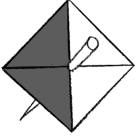

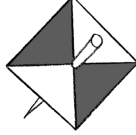

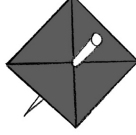

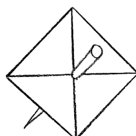



K ₃	Vermutungen zur Wahrscheinlichkeit	Strichliste für Test	Ergebnis des Tests
 <p>Kreisel C</p>	<input type="checkbox"/> weiß wird häufiger fallen <input type="checkbox"/> grau wird häufiger fallen <input type="checkbox"/> beide Farben werden gleich häufig fallen <input type="checkbox"/> weiß wird nie fallen <input type="checkbox"/> grau wird nie fallen	 <p>Anzahl weiß ____ Anzahl grau ____</p>	<input type="checkbox"/> weiß ist häufiger gefallen <input type="checkbox"/> grau ist häufiger gefallen <input type="checkbox"/> beide Farben sind gleich häufig gefallen <input type="checkbox"/> weiß ist nie gefallen <input type="checkbox"/> grau ist nie gefallen
 <p>Kreisel D</p>	<input type="checkbox"/> weiß wird häufiger fallen <input type="checkbox"/> grau wird häufiger fallen <input type="checkbox"/> beide Farben werden gleich häufig fallen <input type="checkbox"/> weiß wird nie fallen <input type="checkbox"/> grau wird nie fallen	 <p>Anzahl weiß ____ Anzahl grau ____</p>	<input type="checkbox"/> weiß ist häufiger gefallen <input type="checkbox"/> grau ist häufiger gefallen <input type="checkbox"/> beide Farben sind gleich häufig gefallen <input type="checkbox"/> weiß ist nie gefallen <input type="checkbox"/> grau ist nie gefallen
 <p>Kreisel F</p>	<input type="checkbox"/> weiß wird häufiger fallen <input type="checkbox"/> grau wird häufiger fallen <input type="checkbox"/> beide Farben werden gleich häufig fallen <input type="checkbox"/> weiß wird nie fallen <input type="checkbox"/> grau wird nie fallen	 <p>Anzahl weiß ____ Anzahl grau ____</p>	<input type="checkbox"/> weiß ist häufiger gefallen <input type="checkbox"/> grau ist häufiger gefallen <input type="checkbox"/> beide Farben sind gleich häufig gefallen <input type="checkbox"/> weiß ist nie gefallen <input type="checkbox"/> grau ist nie gefallen
 <p>Kreisel G</p>	<input type="checkbox"/> weiß wird häufiger fallen <input type="checkbox"/> grau wird häufiger fallen <input type="checkbox"/> beide Farben werden gleich häufig fallen <input type="checkbox"/> weiß wird nie fallen <input type="checkbox"/> grau wird nie fallen	 <p>Anzahl weiß ____ Anzahl grau ____</p>	<input type="checkbox"/> weiß ist häufiger gefallen <input type="checkbox"/> grau ist häufiger gefallen <input type="checkbox"/> beide Farben sind gleich häufig gefallen <input type="checkbox"/> weiß ist nie gefallen <input type="checkbox"/> grau ist nie gefallen

Überlege und schreibe auf:

Welchen Kreisel würdest du wählen, wenn weiß die Gewinnfarbe ist?

Ich würde Kreisel ____ wählen.

Begründung: _____

Welchen Kreisel würdest du wählen, wenn grau die Gewinnfarbe ist?

Ich würde Kreisel ____ wählen.

Begründung: _____

Welche Kreisel haben gleich große Gewinnchancen?

Es sind die Kreisel _____

Begründung: _____

