




## Zahlen im Weihnachtsbaum

Sieh dir das Bild an. Welche Zahlen findest du?



Zähle alle Zahlen zusammen. Wie heißt das Ergebnis?



## So viel Weihnachtsdeko


Wie viele Herzen, Sterne, ... sind es? Schreibe auf.



\_\_\_\_\_

\_\_\_\_\_

\_\_\_\_\_



\_\_\_\_\_

\_\_\_\_\_

\_\_\_\_\_





## Von Haus zu Haus

Jeder Weihnachtsmann muss in 10 Häuser. Male die fehlenden Häuser in jede Straße.



## Geschenke verteilen

Der Weihnachtsmann verteilt Geschenke. Schreibe zu jedem Bild die passende Aufgabe.






## Formen am Weihnachtsbaum

Male die Formen am Weihnachtsbaum an.

△: gelb

□: rot

○: blau



Zähle die Formen.

△: \_\_\_\_\_


□: \_\_\_\_\_

○: \_\_\_\_\_




## Warten auf Weihnachten

Das Krippenspiel beginnt um 5 Uhr abends. Kreise die richtige Uhr ein.



Sieh auf deine Uhr. Wie spät ist es? Schreibe und zeichne.



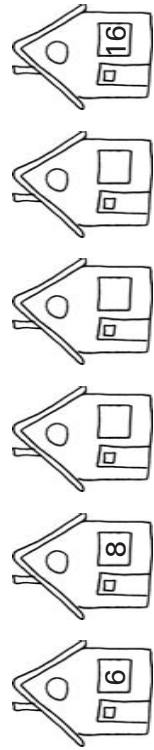
Wie viele Stunden dauert es noch bis 5 Uhr abends?





## Weihnachten in der Glockenstraße

In der Glockenstraße 12 warten Paula und Kim auf den Weihnachtsmann. Schreibe die fehlenden Hausnummern an die Häuser. Male das Haus von Paula und Kim bunt an.



## Weihnachtssterne

In Lisas Klasse sind 9 Mädchen und 11 Jungen. Außerdem unterrichten 3 Lehrer in der Klasse. Lisa will für alle 1 Stern basteln.

Wie viele Sterne muss Lisa basteln?



## Schafherde

Ein Hirte hat eine Herde mit braunen Schafen. Am Abend zählt er seine Tiere. Alle 15 Schafe und 5 Lämmer sind da. Am nächsten Morgen zählt er wieder. Nun sind es nur noch 12 Schafe und 3 Lämmer.

Wie viele Schafe sind verschwunden?  
 Wie viele Lämmer fehlen?  
 Wie viele Tiere fehlen insgesamt?



## Bienenwachskerzen

Ein Imker soll zu Weihnachten große Bienenwachskerzen für den Adventskranz in der Kirche liefern. Außerdem haben 5 Familien Bienenwachskerzen für ihre Adventskränze bestellt.

Wie viele Bienenwachskerzen sind auf einem Adventskranz?  
 Wie viele Bienenwachskerzen muss der Imker insgesamt liefern?

